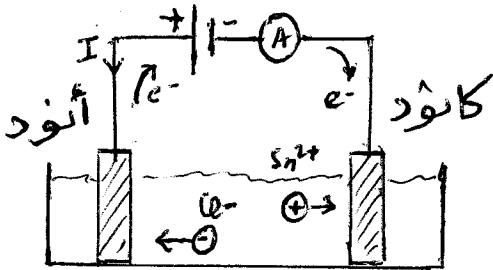


الكيمياء

الجزء الأول: التحليل الكهربائي لمحلول كلوريد القصدير II

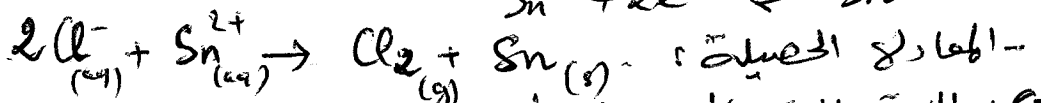

1) تبيانه التركيب.



2) عند الأتود يحدث أكسدة الأيون Cl^- :



عند الكاتود يحدث اختزال للأيون Sn^{2+} :



3) بالاستعانة بالمحلول الوصف، توصل إلى:

* باستعمال العلاقاتين: $n(e^-) = 2x$ و $n(Cl_2) = x$ ومنه: $n(Cl_2) = \frac{n(e^-)}{2}$

* نستنتج أن: $n(e^-) \cdot F = I \cdot \Delta t$ و $n(Cl_2) = \frac{V}{V_m}$

$$\frac{V}{V_m} = \frac{I \cdot \Delta t}{2 \cdot F}$$

$$V = \frac{I \cdot \Delta t}{2 \cdot F} \cdot V_m$$

$$V = \frac{1,5 \times 80 \times 60}{2 \times 9,65 \cdot 10^4} \times 24 = 0,89 L$$

ويكون حجم الغاز هو:

ت.ع.

الجزء الثاني: تفاعل الأمونياك

1) دراسة المحلول المائي للأمونياك.

1-1) * حسب الجبرول الوصفي: $x_f = \eta_f([HO^-]) = [HO^-]_f \cdot V$

* حسب تعريف نسبة التقدم التفاعلي: $\tau = x_f / x_m$

* حسب الجبراء الأيوني للماء: $[HO^-] \cdot [H_3O^+] = K_e$

$$\tau = \frac{x_f}{x_m} = \frac{[HO^-] \cdot V}{C_B \cdot V} = \frac{K_e}{C_B \cdot [H_3O^+]} = \frac{K_e}{C_B \cdot 10^{-PH}}$$

$$\tau = \frac{10^{PH} \cdot K_e}{C_B}$$

$$\tau = \frac{10^{10,75} \times 10^{-14}}{2,70 \cdot 10^{-2}} = 0,028$$

$$\tau = 2,8\%$$

تفاعل NH_3 مع الماء محدود

ت.ع.

$$Q_{req} = \frac{[NH_4^+]_{eq} \cdot [HO^-]_{eq}}{[NH_3]_{eq}} = \frac{(x_f/v)^2}{c_B - x_f/v} \quad (1-2)$$

$$= \frac{(\tau c_B)^2}{c_B - \tau c_B} = \frac{\tau^2 c_B}{1 - \tau}$$

$$Q_{req} = \frac{(0,028)^2 \times 2 \cdot 10^{-2}}{1 - 0,028} = 1,61 \cdot 10^{-5} \quad \text{ت.ع.أ}$$

(1-3) من تعريف ثابتة التوازن: $K_A = \frac{[NH_3]_{eq} \cdot [H_3O^+]_{eq}}{[NH_4^+]_{eq}}$


* فنبتز الجداء: $K_A \times Q_{req} = \frac{[NH_3]_{eq} \cdot [H_3O^+]_{eq}}{[NH_4^+]_{eq}} \times \frac{[NH_4^+]_{eq} \cdot [HO^-]_{eq}}{[NH_3]_{eq}}$

$$K_A \times Q_{req} = [H_3O^+]_{eq} \cdot [HO^-]_{eq} = K_e$$

ومنه: $K_A = \frac{K_e}{Q_{req}} = \frac{10^{-14}}{1,61 \cdot 10^{-5}} = 6,2 \cdot 10^{-10}$

$$pK_A = -\log K_A = -\log(6,2 \cdot 10^{-10}) \approx 9,2$$

② معايرة محلول الأمونيا



(2.2.1) الإحداثيات: $pH_E = 5,6$ و $V_{AE} = 22,4 \text{ mL}$

(2.2.2) علاقة التكافؤ مع القاعدة

$$c'_B \times V_B = c_A \times V_{AE}$$

$$c'_B = \frac{V_{AE}}{V_B} \times c_A$$

$$c'_B = \frac{22,4}{30} \times 2 \cdot 10^{-2} = 1,49 \cdot 10^{-2} \text{ mol} \cdot \text{L}^{-1} \quad \text{ت.ع.أ}$$

(2.2.3) التناصف الملائم هو أحمر الكوروفينول لأن منطقة

$$5,2 < pH_E = 5,6 < 6,8 \quad \text{تنضم } pH_E$$

$$pH = pK_A + \log \frac{[NH_3]}{[NH_4^+]} \quad \text{نطبق العلاقة (2.2.4)}$$

$$pH = pK_A + \log \frac{[NH_3]}{[NH_3] \times 15}$$

$$pH = pK_A - \log 15 = 9,2 - \log 15$$

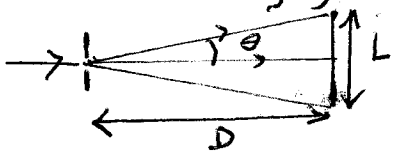
$$pH \approx 8$$

* عن طريق الإسقاط مسانيا نجد:

$$V_{A1} \approx 21 \text{ mL}$$

الموجبات

(1.1) تبرز لها هرة الحيود أن طبيعة الضوء موجبة.



(1.2) حسب الشكل: $\tan(\theta) = \frac{L/2}{D}$

بحال أن θ صغيرة $\theta \approx \tan(\theta) = \frac{L}{2D}$

ونعلم أن تبس θ هو $\theta \approx \frac{1}{a}$

$$\lambda = \frac{L \cdot a}{2D}$$

نستنتج أن: $\frac{a}{\lambda} = \frac{L}{2D}$ ومنه:

(1) $L = k \cdot \frac{1}{a}$ * معادله المستقيم تكون على الشكل:

(2) $L = 2D \cdot \frac{1}{a}$

$b_2 = 2D$

$d = \frac{h}{2D} = \frac{\frac{14}{2} \text{ mm}^2}{2 \times 5,54 \text{ m}} \quad (\text{mm}^2 = 10^{-6} \text{ m}^2)$

$d \approx 6,31 \cdot 10^{-7} \text{ m} \approx 631 \text{ nm}$

$E = h \cdot \nu = \frac{h \cdot c}{\lambda} = \frac{6,63 \cdot 10^{-34} \times 3 \cdot 10^8}{6,31 \cdot 10^{-7}}$

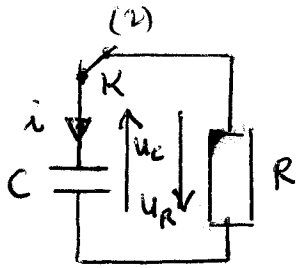
$E \approx 3,15 \cdot 10^{-19} \text{ J} = \frac{3,15 \cdot 10^{-19}}{1,6 \cdot 10^{-19}} = 1,97 \text{ eV}$

(2) تحديد d قطر الشعرة، باستعمال المبيان:

* عند $L' = 42 \text{ mm}$ ، نجد مبيانياً: $\frac{1}{a} = 6 \text{ mm}^{-1}$

$d = \frac{1}{6} \text{ mm} = 0,167 \text{ mm}$

$d = 167 \text{ } \mu\text{m}$



(1) دراسة شارة القطب RC

* في الاصطلاح مستقبل: $u_C = -u_R$ (1.1 0.5)

$$u_R + u_C = 0 \Rightarrow R i + u_C = 0 \Rightarrow R \frac{dq}{dt} + u_C = 0$$

$$RC \frac{du_C}{dt} + u_C = 0$$

(1.2 0.5) تعبير τ : $u_C = U_{max} e^{-t/\tau} \rightarrow \frac{du_C}{dt} = -\frac{U_{max}}{\tau} e^{-t/\tau}$

لغرض في المعادلات التفاضلية: $RC \left(-\frac{U_{max}}{\tau} e^{-t/\tau} \right) + U_{max} e^{-t/\tau} = 0$

وذلك: $U_{max} e^{-t/\tau} \left(1 - \frac{RC}{\tau} \right) = 0 \quad \forall t \geq 0$

(1.3 0.5) $\tau = RC$: أي $1 - \frac{RC}{\tau} = 0$

* تسمى τ ميثاق

$u_C(\tau) = U_{max} e^{-1}$

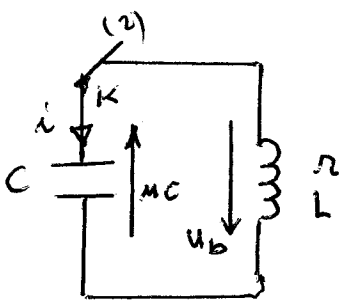
$u_C(\tau) = 2,5/e = 0,992V$

وعند طرف الاقطاب نجد: $\tau \approx 1ms$

* نعلم ان: $\tau = RC$ وذلك:

$$C = \frac{\tau}{R} = \frac{10^{-3}}{10^6} \approx 10^{-9} F$$

(2) دراسة التذبذبات الحرة



(2.1 0.5) يبين الشكل 4: النظام شبه دوري.

(2.2 0.5) المعادلات التفاضلية للثمة q:

* في الاصطلاح مستقبل: $u_b = -u_C$

$$u_b + u_C = 0 \Rightarrow L \frac{di}{dt} + \frac{q}{C} = 0$$

$$L \frac{dq}{dt} + \frac{q}{C} = 0$$

$$\frac{d^2q}{dt^2} + \frac{1}{LC} q = 0$$

(2-3 0.5) $2\pi\sqrt{LC} = T \rightarrow 4\pi^2 LC = T^2$

$L = \frac{T^2}{4\pi^2 C}$; $T = 0,2ms$

$L = \frac{(0,2 \cdot 10^{-3})^2}{4 \times 10 \times 10^{-9}} = 1H$

ت.ع

$$\begin{aligned}\Delta E &= \mathcal{E}(t_2) - \mathcal{E}(t_1) \\ &= [\mathcal{E}_e(t_2) + \mathcal{E}_m(t_2)] - [\mathcal{E}_e(t_1) + \mathcal{E}_m(t_1)] \\ &= \left[\frac{1}{2C} q^2(2T) + \frac{1}{2} L i^2(2T) \right] - \left[\frac{1}{2C} q^2(0) + \frac{1}{2} L i^2(0) \right]\end{aligned}$$

$$\Delta E = \frac{1}{2C} [q^2(2T) - q^2(0)] \quad ; \quad (i(2T) = i(0) = 0)$$

$$\Delta E = \frac{1}{2 \cdot 10^{-9}} \left[(2 \cdot 10^{-9})^2 - (2,5 \cdot 10^{-9})^2 \right]$$

$$\Delta E = -1,125 \cdot 10^{-9} \text{ J}$$

(3) استنبال وإشارة مضمّنة السوّج :

(3.1 و 2) دور الجهد 3 هو حذف توتر الراحة (مرشح RC عن التوالي)

(3.2 و 5)

$$f_0 = \frac{1}{2\pi\sqrt{LC}} = \frac{1}{2\pi\sqrt{1,1 \cdot 10^{-3} \times 10^{-9}}}$$

$$f_0 \approx 1,52 \cdot 10^5 \text{ Hz}$$

(3.3 و 7) تحديد قيمة R_2 المناسبة ليحقق :

$$\frac{1}{F_p} = T_p \ll \tau = R_2 C_2 < T_s = \frac{1}{f_s}$$

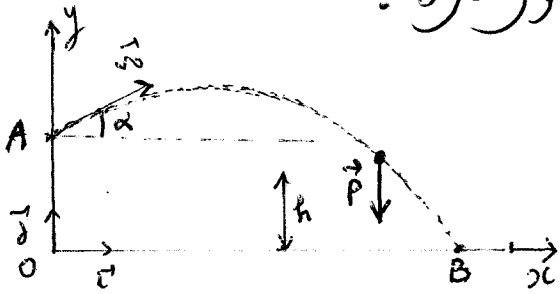
$$\frac{1}{f_0 \cdot C_2} \ll R_2 < \frac{1}{f_s \cdot C_2}$$

$$1,4 \cdot 10^3 \Omega \ll R_2 < 2,13 \cdot 10^5 \Omega$$

$$1,4 \text{ k}\Omega \ll R_2 < 213 \text{ k}\Omega$$

$R_2 = 150 \text{ k}\Omega$ ، اختيار القيمة

الجزء الأول: دراسة حركة مركز قصور كرتي:



(1) تخضع الكرة خلال حركتها، إلى وزنها فقط \vec{P}
 نطبق القانون في العلم $(0, \vec{x}, \vec{y})$:

$\vec{P} = m \vec{a}$

- الإسقاط على المحور ox : $0 = m a_x$ وسنه

(1) $v_x = v_0 \cos(\alpha)$

- الإسقاط على المحور oy : $-mg = m a_y$ وسنه

(2) $v_y = -g t + v_0 \sin(\alpha)$

(2) باستغلال المتطابقات عند $t=0$:

$v_y(0) = 4 \text{ m.s}^{-1}$ و $v_x(0) = 13 \text{ m.s}^{-1}$

* حسب تسمية السؤال السابق:

$v_y(0) = v_0 \sin(\alpha)$ و $v_x(0) = v_0 \cos(\alpha)$

بالمثل بقية التسمية

$v_0^2 = 13^2 + 4^2 \iff \begin{cases} v_0^2 \cos^2 \alpha = 13^2 \\ v_0^2 \sin^2 \alpha = 4^2 \end{cases} \iff \begin{cases} v_0 \cos(\alpha) = 13 \\ v_0 \sin(\alpha) = 4 \end{cases}$

$v_0 \approx 13,6 \text{ m.s}^{-1}$

$\alpha \approx 17^\circ \iff \tan(\alpha) = 0,308 \iff \frac{v_0 \sin(\alpha)}{v_0 \cos(\alpha)} = \frac{4}{13}$ و

(3) عن طريق تكامل (1) و (2):

$y = -\frac{1}{2} g t^2 + v_0 \sin(\alpha) t + H$ و $x = v_0 \cos(\alpha) \cdot t$

$y = -\frac{g}{2 v_0^2 \cos^2(\alpha)} x^2 + \tan(\alpha) x + H$ و $t = \frac{x}{v_0 \cos(\alpha)}$ (=)

$y = -\frac{10}{2 \times 13,6^2 \cos^2(17)} x^2 + \tan(17) x +$

$y = -2,96 \cdot 10^{-2} x^2 + 0,306 x + 2,60$

7/7

(4) + الشرط الأول: $y(d) = -2,96 \cdot 10^{-2} d^2 + 0,306 d + 2,60$
 $= -2,96 \cdot 10^{-2} \times 9^2 + 0,306 \times 9 + 2,60$
 $y(d) = 2,96 \text{ m} > H = 2,60 \text{ m}$

+ الشرط الثاني: $y(x_B) = 0$
 $-2,96 \cdot 10^{-2} x_B^2 + 0,306 x_B + 2,60 = 0$

$$\Delta = b^2 - 4ac = (0,306)^2 - 4(-2,96 \cdot 10^{-2}) \times 2,60$$

$$\Delta = 0,401$$

$$x_B = \frac{0,306 + \sqrt{0,401}}{2 \times (2,96 \cdot 10^{-2})} \approx 15,9 \text{ m}$$

$$9 \text{ m} = d < x_B = 15,9 \text{ m} < d + D = 18 \text{ m}$$

الجزء الثاني: دراسة طويّة لحركة نواس السبي

(1) تحفظ الطاقة الميكانيكية E_m

$$E_m = E_m(0) = E_c(0) + E_{pt}(0) + E_{pp}(0)$$

$$E_m = \frac{1}{2} J_D \dot{\theta}^2(0) + E_{pt}(0) + 0 \quad (\dot{\theta}(0) = 0)$$

$$E_m = E_{pe}(0) = 9 \text{ m J} = 9 \cdot 10^{-3} \text{ J}$$

$$E_m(t_1) = E_c(t_1) + E_{pt}(t_1) + E_{pp}(t_1)$$

$$E_m = \frac{1}{2} J_D \dot{\theta}^2 + 0 + 0$$

$$\dot{\theta}^2 = \frac{2E_m}{J_D} \Rightarrow |\dot{\theta}| = \sqrt{\frac{2E_m}{J_D}}$$

$$|\dot{\theta}| = \sqrt{\frac{2 \times 9 \cdot 10^{-3}}{2,9 \cdot 10^{-3}}} \approx 2,49 \text{ rad} \cdot \text{s}^{-2}$$

(3) حساب W شغل من وضع السبي

$$W = -\Delta E_{pe}$$

$$t_0 \rightarrow t_1 = E_{pe}(t_0) - E_{pe}(t_1)$$

$$= 9 \cdot 10^{-3} - 0$$

$$W = 9 \cdot 10^{-3} \text{ J}$$